



Nombre:

Edad:

Horas:

Ficha 1

ESTIMULACIÓN COGNITIVA

1) **Lenguaje.** Lea el siguiente texto y rodee cuando observe las letras “D” y “R”.

Ejemplo:

“ El verano es una de las estaciones del año que comienza después de la primavera y termina antes del otoño. La época del verano se caracteriza por sus elevadas temperaturas, siendo las mas cálidas de las cuatro estaciones.”

¿Cuántas D hay? _____

¿Cuántas R hay? _____

2) **Lenguaje.** Escriba 3 nombres de cada de las palabras que le colocamos a continuación.

Playa	Comidas de verano	Animales del mar



Nombre:

Edad:

Horas:

Ficha 1

ESTIMULACIÓN COGNITIVA

3) **Lenguaje Automático.** Responda las siguientes preguntas.

3a) ¿Cuáles son los meses de verano? _____

3b) ¿Cuándo se celebra el día del trabajador? _____

3c) Los meses de otoño ¿Cuáles son? _____

4) **Cálculo.** Realice las siguientes operaciones de suma:

$$\begin{array}{r} 215 \\ + 40 \\ \hline \end{array}$$

$$\begin{array}{r} 198 \\ + 20 \\ \hline \end{array}$$

$$\begin{array}{r} 346 \\ + 12 \\ \hline \end{array}$$

5) **Cálculo.** Realice las siguientes operaciones de resta:

$$\begin{array}{r} 853 \\ - 13 \\ \hline \end{array}$$

$$\begin{array}{r} 486 \\ - 15 \\ \hline \end{array}$$

$$\begin{array}{r} 557 \\ - 10 \\ \hline \end{array}$$



Nombre:

Edad:

Horas:

Ficha 1


ESTIMULACIÓN COGNITIVA

6) **Lenguaje, Memoria.** Le mostraremos unas figuras, luego relacionarlo con los nombres de las columnas de la derecha, uniendolo con flechas.


Gamba



Pez



Estrella de mar



Pulpo





Nombre:

Edad:

Horas:
















Ficha 1

ESTIMULACIÓN COGNITIVA

7) **Atención.** Observe el recuadro y rodee la letra que se encuentra a tres espacios de la letra "O".

X	T	M	O	R	S	W	D
G	R	O	C	E	T	N	R
V	I	M	N	O	A	S	D

8) **Atención.** Observe el recuadro y rodee la figura que se encuentra a tres espacios de la figura "  ".



Nombre:


Edad:

Horas:

Ficha 1

ESTIMULACIÓN COGNITIVA

9) **Praxia.** Trate de realizar el dibujo en el recuadro a la derecha igual al que le presentamos.



10) **Lengua, Memoria.** Proceda a completar las siguientes frases, indicando para que funcionan los siguientes objetos.

10.a) ¿La olla sirve para? _____

10.b) ¿La lavadora sirve para? _____

10.c) ¿El coche sirve para? _____

10.d) ¿El móvil sirve para? _____